











संकलित मूल्यमापन -1 2022-23

शाळेचे नाव :

इयत्ता: 1 ली	गुण : 20	लेखी परीक्षा श्रेणी :
विषय : परिसर अध्ययन	वेळ : 90 मिनिटे	तोंडी परीक्षा श्रेणी :
विद्यार्थ्याचे नाव :	हजेरी क्र. :	एकूण श्रेणी :






प्रश्न 1 ला - खाली प्राण्यांचे तोंड , शरीर आणि नाव दिले आहेत. योग्य प्राण्यांचे तोंड, शरीर आणि नाव रेषेच्या सहाय्याने जोडा. (5x1=5)

				मांजर
				बदक
				माकड
				मोर
				हत्ती

प्रश्न 2 रा खालील वनस्पती ओळखून चित्राखाली योग्य ते नाव निवडून लिहा.

(नारळ , वांगी , द्राक्षे , केळी , आंबा)













(5x1=5)

प्रश्न 3 रा- खालील आहार पदार्थांपैकी फळाना गोल (○) , भाज्याना चौकोन (□) व धान्य

पदार्थासमोर (✓) अशी खूण करा.

(4x1/2=2)

प्रश्न 4 था खालील वाक्ये चूक की बरोबर लिहा.

(6x1/2=3)

1) पाण्याचा वापर स्वयंपाक करण्यासाठी करतात.

2) आपल्या शरीराच्या वाढीसाठी आहार पाहिजे.

3) आपण आहार खाऊ नये.

4) नदी , विहीर यामधून आपल्याला पाणी मिळत नाही.

5) आपले शरीर आपण स्वच्छ ठेवावे.

6) बसमध्ये चढताना रांगेत थांबावे.

प्रश्न 5 वा रिकाम्या जागी योग्य शब्द लिहा.

(4x1/2=2)

(शाळा, दही, गाजर, पाण्याचा)

1) दुधापासून..... तयार करतात.

2) अंधोळ करण्यासाठी वापर करतात

3) शिकण्यासाठी गावात ईमारत गरजेची आहे

4) चा रंग केशरी असतो.

प्रश्न 6 वा तुमच्या शरीराच्या भागांची नावे योग्य जागेत लिहा.

(3 गुण)

(पाय , डोळे , हात , कान , बोटे , डोक , तोंड , पाऊल)

