

## संकलित मुल्यमापन – 2 सन 2022-23

शाळेचे नाव -

इयत्ता : 2 री	गुण : 20	लेखी :
विषय : गणित	वेळ : 90 मिनिटे	तोंडी :
विद्यार्थ्यांचे नाव :	हजेरी क्रमांक :	एकुण श्रेणी :

प्रश्न 1 ला. वस्तूंचे समान गट करून गटांची संख्या चौकोनात लिहा.

(गुण 1×2=2)

1. 9 बॅट चे 3 गट करा.



=

2. 10 फुग्यांचे 5 गट करा.

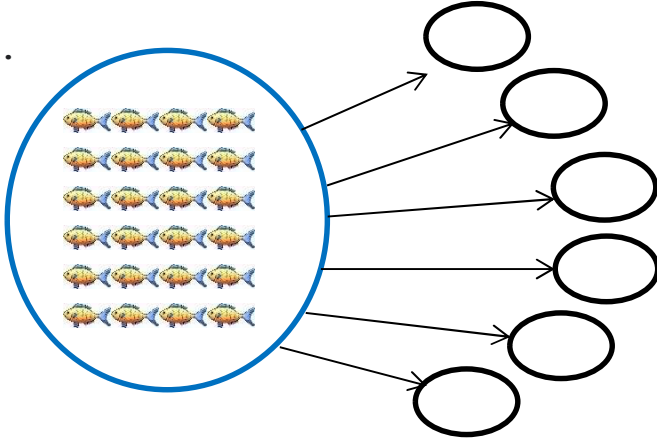


=

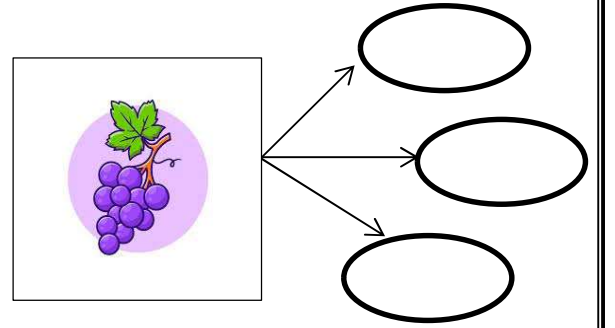
प्रश्न 2 रा. मोजा व समान गट करा.

(गुण 1×2=2)

1.



2.



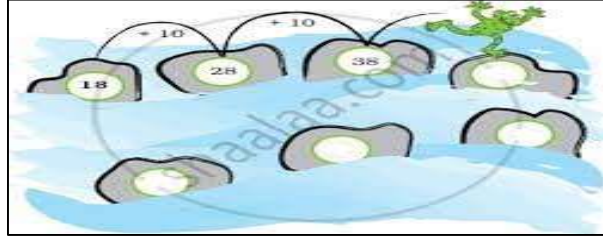
प्रश्न 3 रा. आकृत्यांना नावे द्या व त्यांच्या कडा आणि शिरोबिंदू मोजून लिहा.

(गुण 1/2×4=2)

आकृती	नाव	कडा	शिरोबिंदू

प्रश्न 4 था. चित्र पाहून बेडूक उड्या मारत असलेल्या पुढील दगडावर संख्या लिहा.

(गुण  $\frac{1}{2} \times 4 = 2$ )



प्रश्न 6 वा. खालील संख्या अक्षरात लिहा.

(गुण  $1 \times 2 = 2$ )

1. 225 - .....

2. 456 - .....

प्रश्न 7 वा. तराजू पाहून उत्तर लिही.

(गुण  $1 \times 2 = 2$ )

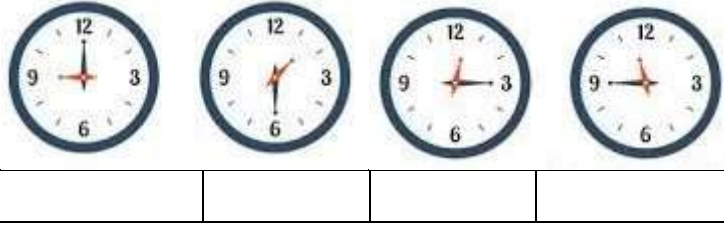


1. मगचे वजन ..... गोट्यांशी समान आहे.

2) बाटलीचे वजन ..... गोट्यांइतके आहे.

प्रश्न 8 वा. घड्याळ पाहून वेळ लिहा.

(गुण  $\frac{1}{2} \times 4 = 2$ )



प्रश्न 9 वा. दिनदर्शिका पाहून खालील प्रश्नांची उत्तरे लिहा.

(गुण  $1 \times 2 = 2$ )

ऑगस्ट 2022

12

Sunday	Monday	Tuesday	Wednesday	Thursday	Friday	Saturday
	1	2	3	4	5	6
7	8	9	10	11	12	13
14	15	16	17	18	19	20
21	22	23	24	25	26	27
28	29	30	31			

1. ही कोणत्या महिन्याची दिनदर्शिका आहे?

.....

2. या महिन्यातील एकूण दिवस किती?

.....

प्रश्न 10 वा. चित्रे मोजून नमुन्याप्रमाणे संख्या आणि गणती खुणा लिहा.

(गुण  $1 \times 4 = 4$ )

वस्तु	संख्या	गणती खुणा

