

इयत्ता 1 ली संकलित मूल्यमापन-1 (2024-25)

शाळेचे नाव- सरकारी उच्च प्राथमिक मराठी शाळा,

विषय - गणित

विद्यार्थ्यांचे नाव-

ह. क्र.-

वेळ- 90 मिनिटे


गुण- 40

दिनांक-

मिळविलेले गुण			
लेखी	तोडी	एकूण	20%

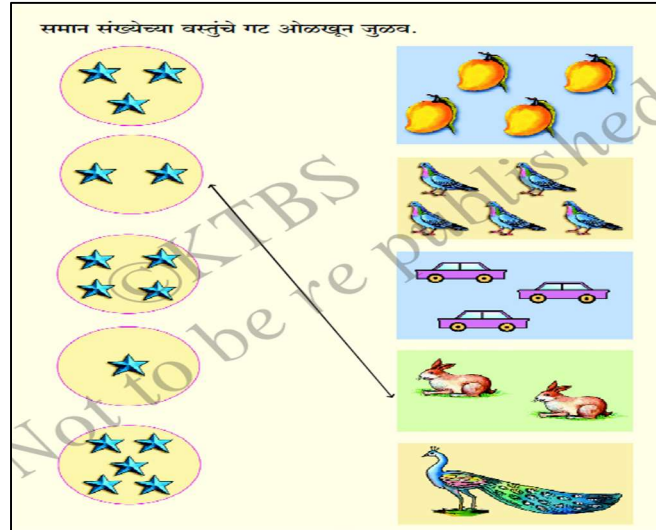
प्रश्न 1 ला. चित्रे मोजा व योग्य अंक लिहा.

गुण $1 \times 4 = 4$



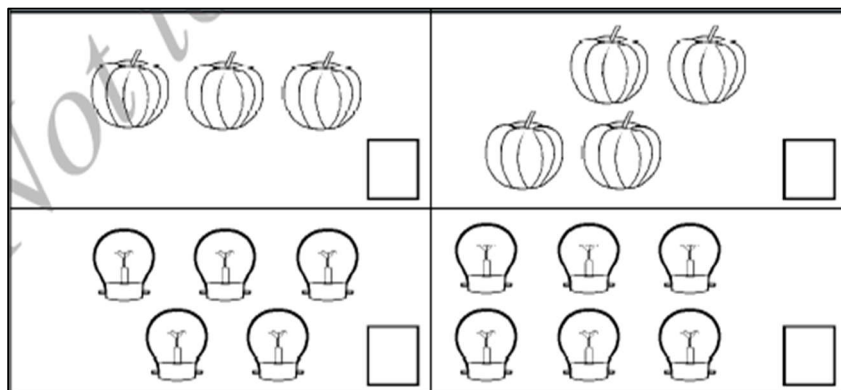
प्रश्न 2 रा . समान संख्येच्या वस्तू असणारी चित्रे रेषेने जुळवा.

गुण $1 \times 4 = 4$



प्रश्न 3 रा. कमी संख्येच्या चित्राखाली(√) अशी खूण करा.

गुण $1 \times 2 = 2$



प्रश्न 4 था. मोठ्या संख्येला गोल करा.

गुण $1 \times 3 = 3$

8, 7

9, 1

6, 8

प्रश्न 5 वा. लहान संख्येला गोल करा.

गुण $1 \times 3 = 3$


9, 5

5, 8

4, 2

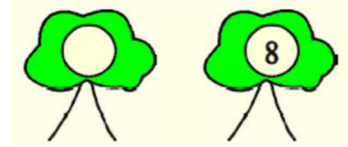

प्रश्न 6 वा. दिलेल्या संख्येच्या पुढील संख्या लिहा.

गुण $1 \times 2 = 2$





प्रश्न 7 वा. दिलेल्या संख्येच्या मागील संख्या लिहा.

गुण $1 \times 2 = 2$




प्रश्न 8 वा. दिलेल्या संख्येच्या मधील संख्या लिहा.

गुण $1 \times 2 = 2$



प्रश्न 9 वा. वस्तू मोजा व लिहा.

गुण 2



प्रश्न 10 वा. बेरीज करा.

गुण $2 \times 2 = 8$

1) $\begin{array}{r} 4 \\ + 4 \\ \hline \hline \end{array}$

2) $\begin{array}{r} 5 \\ + 3 \\ \hline \hline \end{array}$

3) $\begin{array}{r} 3 \\ + 4 \\ \hline \hline \end{array}$

4) $\begin{array}{r} 2 \\ + 7 \\ \hline \hline \end{array}$

प्रश्न 11 वा. वजाबाकी करा.

गुण $4 \times 2 = 8$

1) $\begin{array}{r} 3 \\ - 1 \\ \hline \hline \end{array}$

2) $\begin{array}{r} 6 \\ - 4 \\ \hline \hline \end{array}$

3) $\begin{array}{r} 8 \\ - 3 \\ \hline \hline \end{array}$

4) $\begin{array}{r} 9 \\ - 2 \\ \hline \hline \end{array}$